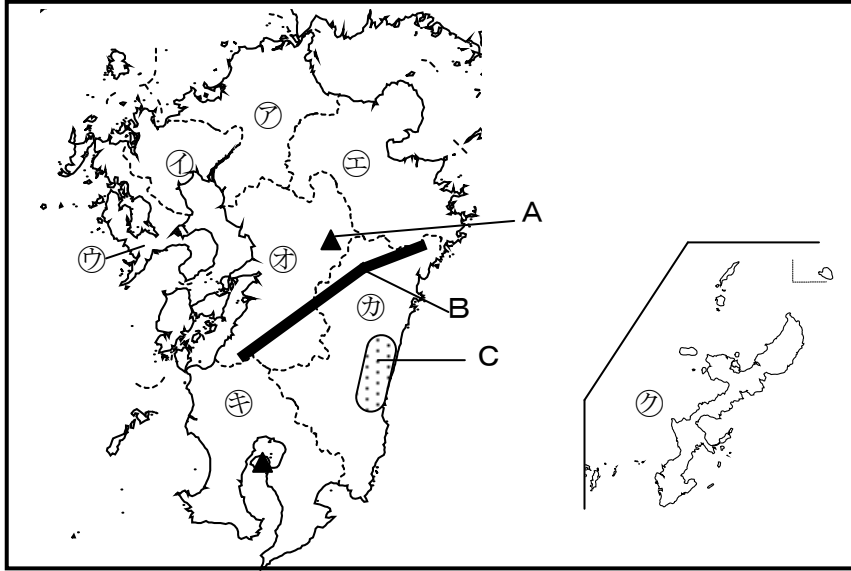


No. 1 九州地方	年 組
	名前

/7 問

次の地図を見て、下の () に当てはまる言葉をそれぞれ書きましょう。

地図



- ①の県には、機械工業、金属工業、食品工業などが中心の (①) 工業地域があります。
- 九州地方は火山が多く、平成28年10月にも噴火したAの火山は (②) です。
- ⑤の県には温泉がたくさんあります。⑤の県は (③) 県です。
- Bの山地は (④) 山地です。
- Cの平野では、ビニールハウスを利用したピーマンやきゅうりの栽培がさかんです。Cの平野は (⑤) 平野です。
- 図の⑦～⑧の県の中で、県名と県庁所在地名が異なる県が一つあります。その県は (⑥) 県で、県庁所在地は (⑦) 市です。



九州地方は火山がたくさんあり、火山の近くには温泉が数多くあるよ。



【解答】

- 北九州
- 阿蘇山
- 大分
- 九州
- 宮崎
- 沖縄
- 那覇

No. 2 九州地方(都道府県名)	年 組
	名前

/16問

次の地図を見て、㉠～㉡の県名と県庁所在地名をそれぞれ書きましょう。

地図



	県名	県庁所在地名
㉠	①	②
㉡	③	④
㉢	⑤	⑥
㉣	⑦	⑧
㉤	⑨	⑩
㉥	⑪	⑫
㉦	⑬	⑭
㉧	⑮	⑯

- ① ふくおかけん 福岡県
- ② ふくおかし 福岡市
- ③ さがけん 佐賀県
- ④ さがし 佐賀市
- ⑤ ながさきけん 長崎県
- ⑥ ながさきし 長崎市
- ⑦ おおいたけん 大分県
- ⑧ おおいたし 大分市
- ⑨ くまもとけん 熊本県
- ⑩ くまもとし 熊本市
- ⑪ みやざきけん 宮崎県
- ⑫ みやざきし 宮崎市
- ⑬ かごしまけん 鹿児島県
- ⑭ かごしまし 鹿児島市
- ⑮ おきなわけん 沖縄県
- ⑯ なはし 那覇市

九州地方は8県あり、県名と県庁所在地名が異なるのは、おきなわけん 沖縄県だけだね。



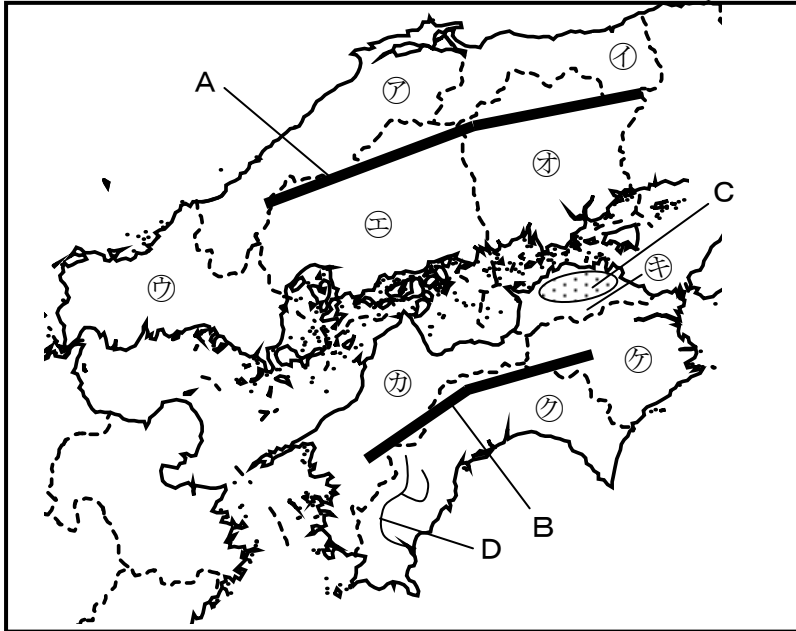
【解答】

No.3 中国・四国地方	年 組
	名前

/7問

次の地図を見て、下の () に当てはまる言葉をそれぞれ書きましょう。

地図



- 1 ㉞の県は (①) 県で、県庁所在地は (②) 市です。

ぼくの名前に関係のあるくだものの生産量が、日本で2番目に多い県だよ。



- 2 Aの山地は (③) 山地で、山地の北側の地域を山陰、南側の地域を山陽といいます。Bの山地は (④) 山地で、西日本で一番高い石鎚山があります。

- 3 ㉝の県の県庁所在地には、世界遺産の原爆ドームがあります。県庁所在地は (⑤) 市です。



- 4 Cの平野は (⑥) 平野です。年間の降水量が少ないため、ため池が多いです。

- 5 Dの川は (⑦) 川です。四国で一番長い川で支流の一つが「平成の名水百選」に選ばれています。

瀬戸内海は太平洋側の地域と比べて、年間の降水量がやや少ないんだね。



【解答】

- ① 愛媛
- ② 松山
- ③ 中国
- ④ 四国
- ⑤ 広島
- ⑥ 讃岐
- ⑦ 四万十

No. 4	中国・四国地方 (都道府県名)	年 組
		名前

/18問

次の地図を見て、㉑～㉓の県名と県庁所在地名をそれぞれ書きましょう。

地図



	県名	県庁所在地名
㉑	①	②
㉒	③	④
㉓	⑤	⑥
㉔	⑦	⑧
㉕	⑨	⑩
㉖	⑪	⑫
㉗	⑬	⑭
㉘	⑮	⑯
㉙	⑰	⑱

- ① 島根県
- ② 松江市
- ③ 鳥取県
- ④ 鳥取市
- ⑤ 山口県
- ⑥ 山口市
- ⑦ 広島県
- ⑧ 広島市
- ⑨ 岡山県
- ⑩ 岡山市
- ⑪ 愛媛県
- ⑫ 松山市
- ⑬ 香川県
- ⑭ 高松市
- ⑮ 高知県
- ⑯ 高知市
- ⑰ 徳島県
- ⑱ 徳島市

【解答】

しゅうがくりょこう
修学旅行で行く県があるかな？

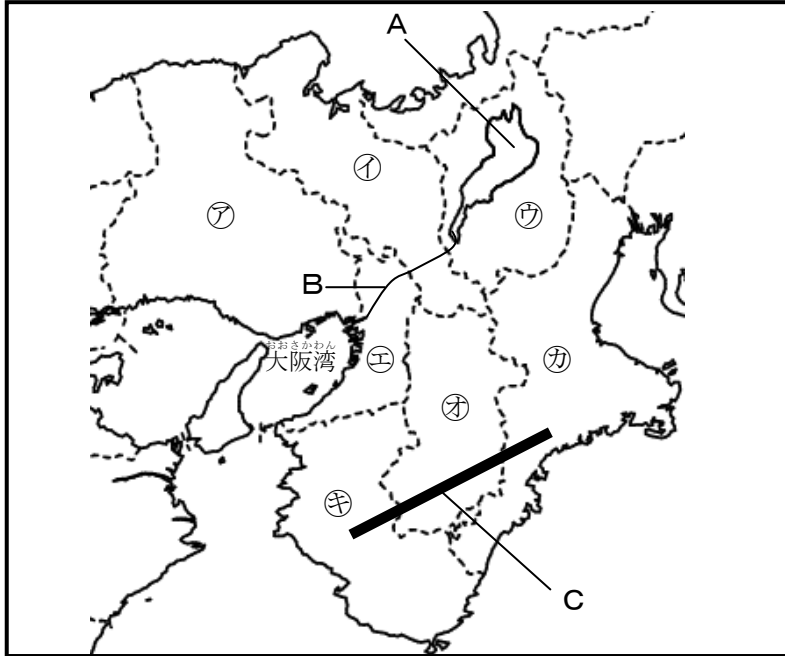


No. 5 近畿地方	年 組
	名前

/7 問

次の地図を見て、下の () に当てはまる言葉をそれぞれ書きましょう。

地図



- ④の県は、みかんやうめの生産量が日本一です。
④の県は (①) 県です。
- Aの湖は、面積が日本で一番広いです。Aの湖は (②) です。
- Aの湖から大阪湾に流れ出るBの川は (③) 川です。
- 金閣や清水寺などのお寺がたくさんあり、多くの観光客が訪れる①の府の府庁所在地は (④) 市です。
- Cの山地は (⑤) 山地です。
- ⑦から④の府県の中には、府が二つあり、①は (⑥) 府、④は (⑦) 府です。



近畿地方には、多くの国宝や文化財が残っているね。



【解答】

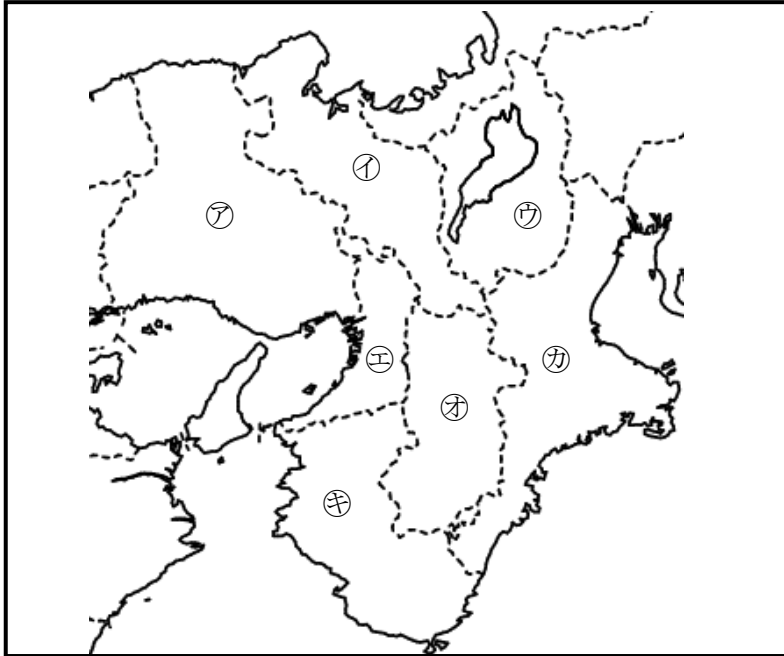
- ① わかやま 和歌山
- ② びわこ 琵琶湖
- ③ よど 淀
- ④ きょうと 京都
- ⑤ きい 紀伊
- ⑥ きょうと 京都
- ⑦ おおさか 大阪

No. 6 近畿地方(都道府県名)	年 組
	名前

/14問

次の地図を見て、㉑～㉓の府県名と府県庁所在地名をそれぞれ書きましょう。

地図



	府県名	府県庁所在地名
㉑	①	②
㉒	③	④
㉓	⑤	⑥
㉔	⑦	⑧
㉕	⑨	⑩
㉖	⑪	⑫
㉗	⑬	⑭

- ① 兵庫県 ひょうごけん
- ② 神戸市 こうべし
- ③ 京都府 きょうとふ
- ④ 京都市 きょうとし
- ⑤ 滋賀県 しがけん
- ⑥ 大津市 おおつし
- ⑦ 大阪府 おおさかふ
- ⑧ 大阪市 おおさかし
- ⑨ 奈良県 ならけん
- ⑩ 奈良市 ならし
- ⑪ 三重県 みえけん
- ⑫ 津市 つし
- ⑬ 和歌山県 わかやまけん
- ⑭ 和歌山市 わかやまし

「府」がつく都道府県は、二つとも近畿地方にあるんだね。



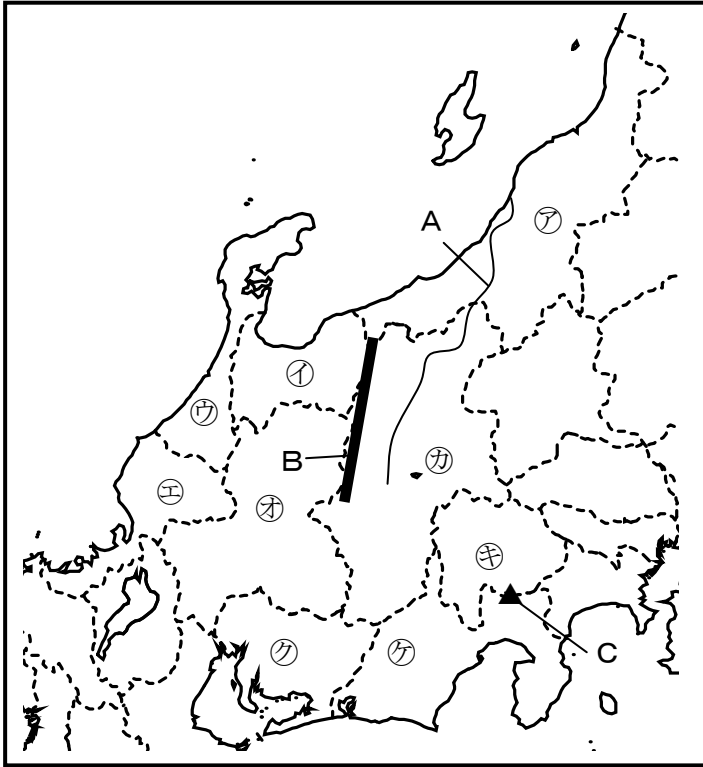
【解答】

No. 7 中部地方	年 組
	名前

/7 問

次の地図を見て、下の () に当てはまる言葉をそれぞれ書きましょう。

地図



- Aの川は、日本で一番長い川で、米づくりがさかんな⑦の県を
通って日本海に流れ出ていきます。Aの川は(①)
川で、⑦の県は(②) 県です。
- 中部地方には、標高3000m級の山がたくさんあります。
Bの山脈は(③) 山脈です。
- Cの山は、標高 3776mの日本一高い山です。
Cの山は(④) です。
- ⑦の県を中心に工業のさかんな中京工業地帯が広がっています。自動車・オートバイの生産台数が日本一の⑦の県は(⑤) 県で、
県庁所在地は(⑥) 市です。
- 茶の生産量が日本一の⑦の県は(⑦) 県です。



中部地方の自然や工業の特ちょうをとらえることができたかな。



【解答】

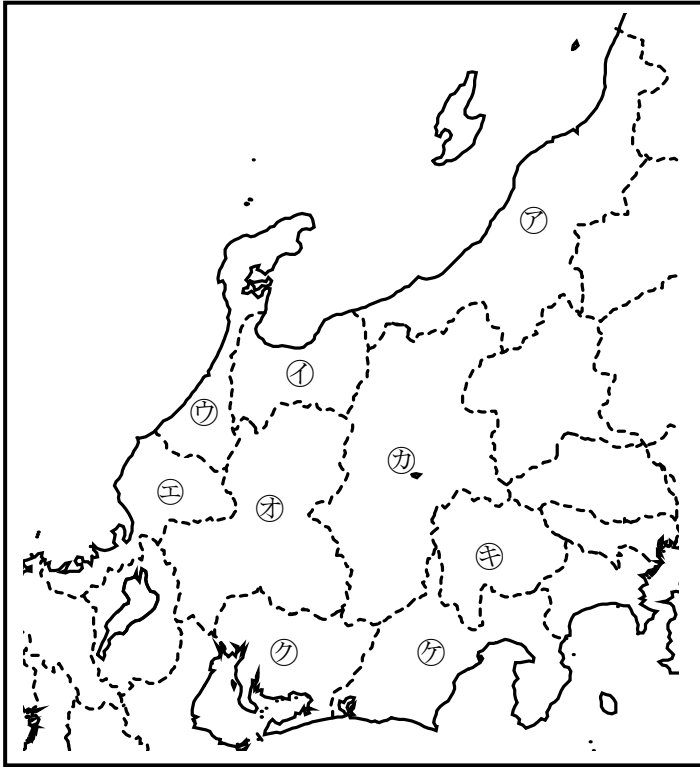
- ① 信濃
- ② 新潟
- ③ 飛騨
- ④ 富士山
- ⑤ 愛知
- ⑥ 名古屋
- ⑦ 静岡

No. 8 中部地方(都道府県名)	年 組
	名前

/18問

次の地図を見て、㊶～㊿の県名と県庁所在地名をそれぞれ書きましょう。

地図



	県名	県庁所在地名
㊶	①	②
㊷	③	④
㊸	⑤	⑥
㊹	⑦	⑧
㊺	⑨	⑩
㊻	⑪	⑫
㊼	⑬	⑭
㊽	⑮	⑯
㊾	⑰	⑱

- 【解答】
- ① 新潟県 にいがたけん
 - ② 新潟市 にいがたし
 - ③ 富山県 とやまけん
 - ④ 富山市 とやまし
 - ⑤ 石川県 いしかわけん
 - ⑥ 金沢市 かなざわし
 - ⑦ 福井県 ふくいけん
 - ⑧ 福井市 ふくいし
 - ⑨ 岐阜県 ぎふけん
 - ⑩ 岐阜市 ぎふし
 - ⑪ 長野県 ながのけん
 - ⑫ 長野市 ながのし
 - ⑬ 山梨県 やまなしけん
 - ⑭ 甲府市 こうふし
 - ⑮ 愛知県 あいちけん
 - ⑯ 名古屋市 なごやし
 - ⑰ 静岡県 しずおかけん
 - ⑱ 静岡市 しずおかし

ちゅうぶ ちほう
中部地方には、海に面していない県が
3県あるんだね。

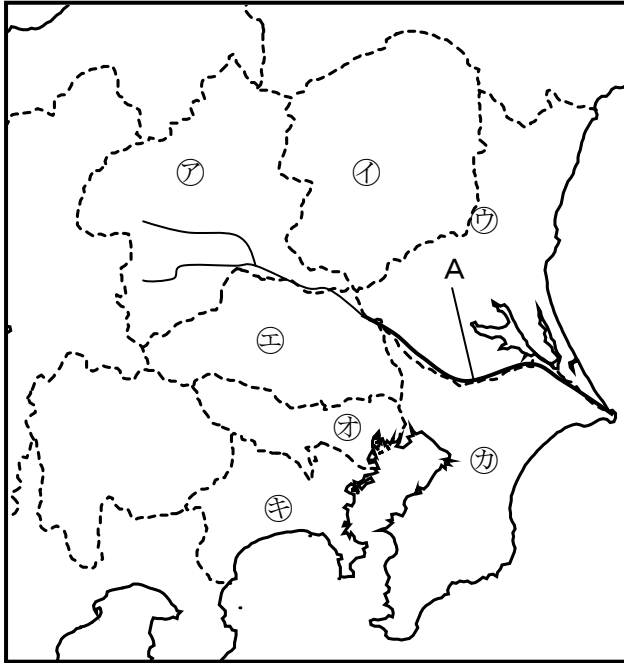


No. 9 関東地方	年 組
	名前

/7 問

次の地図を見て、下の () に当てはまる言葉をそれぞれ書きましょう。

地図



- 1 地図中の㉗～㉛に広がっている、日本で最も面積が広い平野は (①) 平野です。
- 2 ㉙や㉛の沿岸部には、多くの工場が集まり、機械などの生産がさかんに行われている地域が広がっています。この工業地帯は (②) 工業地帯です。
- 3 日本の首都で、2020 年にオリンピックが開かれる都市は (③) です。
- 4 日本で2番目に長いAの川は (④) 川です。
- 5 箱根温泉のある㉚の県は (⑤) 県で、県庁所在地は (⑥) 市です。
- 6 成田国際空港がある㉛の県は (⑦) 県です。

- ① 関東
- ② 京浜
- ③ 東京
- ④ 利根
- ⑤ 神奈川
- ⑥ 横浜
- ⑦ 千葉

関東地方は、日本の政治・経済の中心になっていて、人口も集中しているね。



【解答】

No.10 関東地方(都道府県名)	年 組
	名前

/14問

次の地図を見て、㉗～㉝の都県名と都県庁所在地名をそれぞれ書きましょう。

地図



	都県名	都県庁所在地名
㉗	①	②
㉘	③	④
㉙	⑤	⑥
㉚	⑦	⑧
㉛	⑨	⑩
㉜	⑪	⑫
㉝	⑬	⑭

- ① 群馬県
- ② 前橋市
- ③ 栃木県
- ④ 宇都宮市
- ⑤ 茨城県
- ⑥ 水戸市
- ⑦ 埼玉県
- ⑧ さいたま市
- ⑨ 東京都
- ⑩ 東京(23区)
- ⑪ 千葉県
- ⑫ 千葉市
- ⑬ 神奈川県
- ⑭ 横浜市

関東地方には、県庁所在地名に「ひらがな」が使われている市があるね。



No.11 北海道地方・東北地方

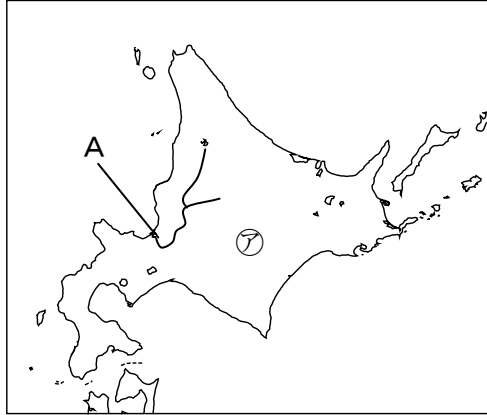
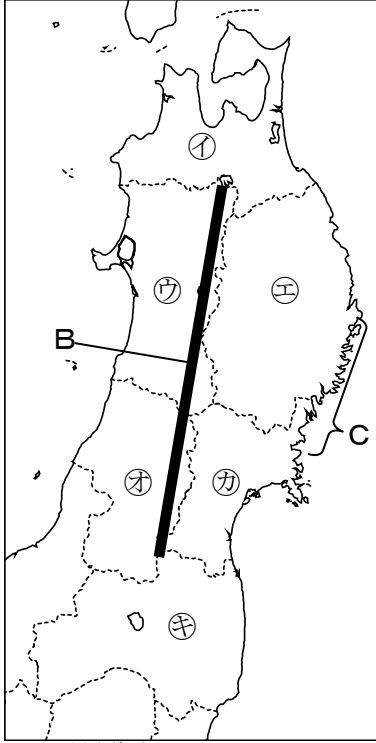
年 組

名前

17問

次の地図を見て、下の () に当てはまる言葉をそれぞれ書きましょう。

地図



1 肉用牛や牛乳の生産が日本一の㊀の道は (①) です。



① ほっかいどう

2 日本で3番目に長いAの川は (②) 川です。

② いしかり

3 Bの山脈は (③) 山脈です。


③ おうう

4 りんごの生産が日本一の㊁の県は (④) 県です。



④ あおもり

5 さくらんぼの生産が日本一の㊂の県は (⑤) 県です。



⑤ やまがた

6 Cの三陸海岸のように、出入りの多い海岸地形を (⑥) 海岸といいます。

⑥ リアス

7 面積が日本で2番目に広い㊃の県は (⑦) 県です。

⑦ いわて

北海道や東北地方には、米や果物の生産がさかんな地域があるんだね。



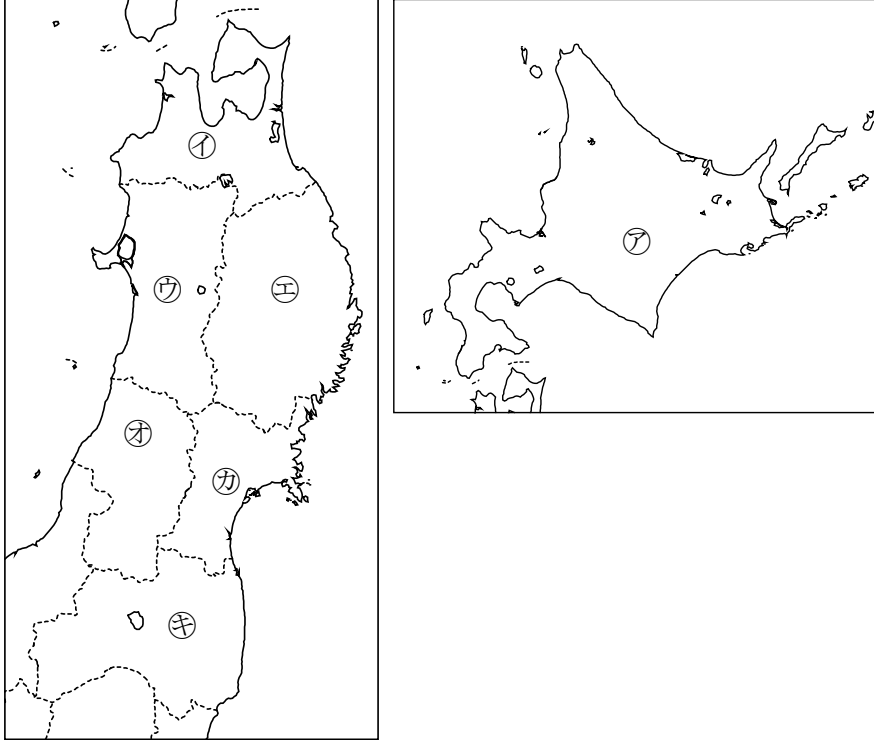
【解答】

No.12 北海道地方・東北地方 (都道府県名)	年 組
	名前

/14問

次の地図を見て、㉗～㉞の道県名と道県庁所在地名をそれぞれ書きましょう。

地図



	道県名	道県庁所在地名
㉗	①	②
㉘	③	④
㉙	⑤	⑥
㉚	⑦	⑧
㉛	⑨	⑩
㉜	⑪	⑫
㉝	⑬	⑭

- ① 北海道
- ② 札幌市
- ③ 青森県
- ④ 青森市
- ⑤ 秋田県
- ⑥ 秋田市
- ⑦ 岩手県
- ⑧ 盛岡市
- ⑨ 山形県
- ⑩ 山形市
- ⑪ 宮城県
- ⑫ 仙台市
- ⑬ 福島県
- ⑭ 福島市

【解答】

北海道地方・東北地方には、面積の広い都道府県ベスト3があるよ。

